


## Figury magiczne

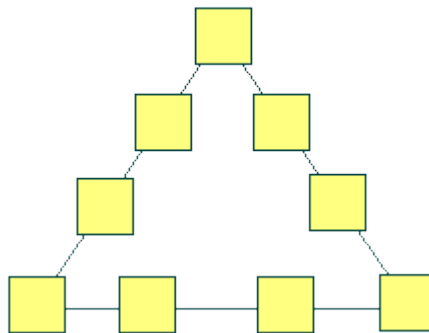
### Zadanie 1.

Uzupełnij kwadrat magiczny liczbami od 1 do 16, tak aby suma magiczna wynosiła 34.



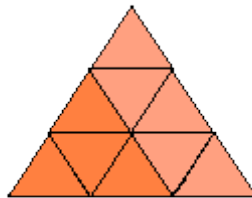
### Zadanie 2.

W pola trójkąta wpisz liczby od 1 do 9, tak aby suma liczb na każdym boku była taka sama.



### Zadanie 3.

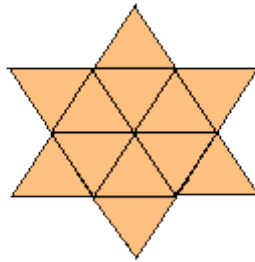
W małe trójkąty wpisz liczby od 1 do 9, tak aby suma liczb w każdym narożniku wynosiła 20, a na każdym boku wynosiła 25.



### Zadanie 4.

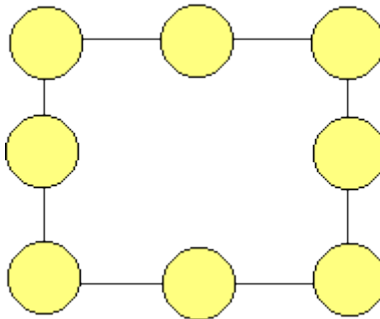
W małe trójkąty wpisz liczby od 1 do 12, tak aby suma na każdym boku jednego trójkąta wynosiła 40, drugiego trójkąta 25, a w narożnych trójkątach i

wewnętrznym sześciokącie 39.



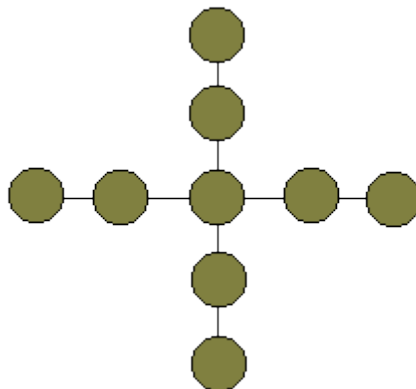
**Zadanie 5.**

Wpisz w kółka liczby 1, 2, 3, 4, 5, 6, 7, 8, 9 tak, aby suma liczb wzdłuż każdej linii była równa 15.



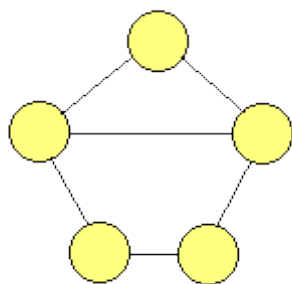
**Zadanie 6.**

Wpisz w kółka liczby 1, 2, 3, 4, 5, 6, 7, 8, 9 tak, aby suma wzdłuż każdej linii była taka sama.



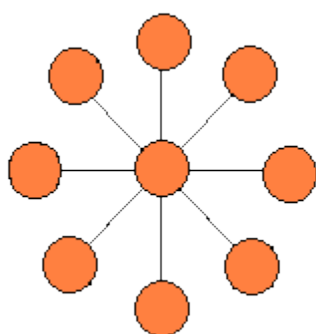
**Zadanie 7.**

Uzupełnij rysunek, wpisując w koła liczby 1, 2, 3, 4, 5 tak, aby żadne dwie kolejne liczby nie znalazły się w kółkach połączonych linią.



**Zadanie 8.**

Wpisz w kółka liczby 1, 2, 3, 4, 5, 6, 7, 8, 9 tak, aby sumy wzdłuż linii były równe.



**Zadanie 9.**

Uzupełnij kółka liczbami 1, 2, 3, 4, 5 tak, żeby żadne dwie kolejne liczby nie były połączone odcinkami.

